

ප්‍රශ්න සියල්ලට ම පිළිතුරු සපයන්න

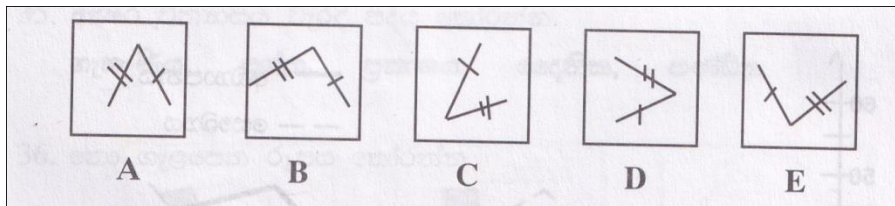
1. හිස්තැනට පැමිණිය යුතු සංඛ්‍යාව සොයන්න.

1 4 8 -?- 19 26

2. ඊළඟ ස්ථාන දෙකට යෙදිය යුතු දෑ ලියන්න.

32, CB, 43, DC, 54, ED, __ , __

3. නො ගැළපෙන රූපය සොයන්න.



4. “තුල්‍යවෙනවා” යන්නට සමාන වන වචනය දී ඇති වචනවලින් තෝරන්න.

හරස්වෙනවා, කරභවෙනවා, සමානවෙනවා

නැතිවෙනවා, උසස්වෙනවා, අවදිවෙනවා.

5. මූලින් දී ඇති වචන යුගලයට ඉතා සමීප සමාන වන අනුරූප වචන යුගලය තෝරන්න.

උඩයනවා - යටයනවා

මූල - අග

කෝප්පය - පිරිසිය

ආගමන - විගමන

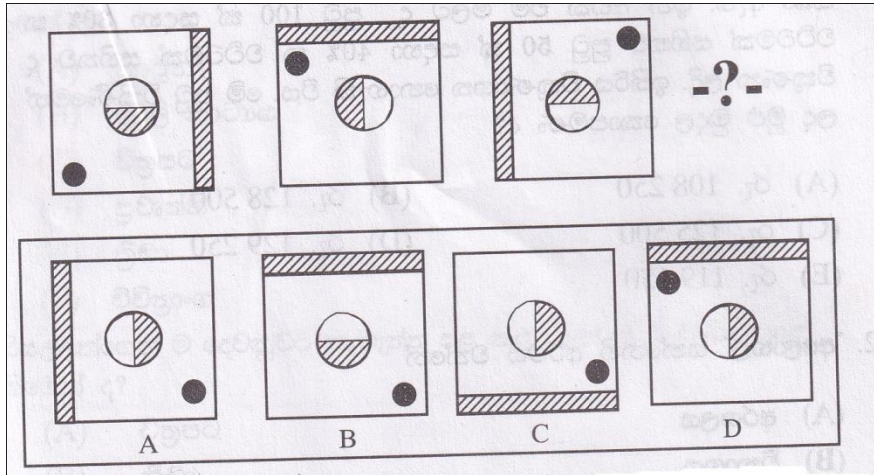
දුරස්ථ - ස්ථාවර

ප්‍රමාද - සුනන්ද

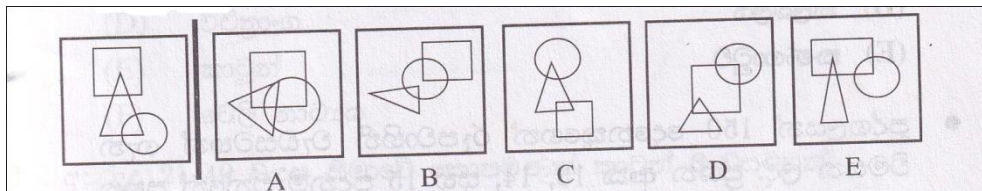
6. පද හයෙන් පහක් එක් වර්ගයකට අයිතිය. ඉතිරි පදය තෝරන්න.

හතු, පර, වතු, දිමුතු, සුදු, ගැනි

7. ඊළඟට ගැලපෙන රූපය තෝරන්න.



8. ප්‍රථමයෙන් දී ඇති රූපයේ ලක්ෂණම ඇත්තාවූ රූපය දී ඇති රූප අතුරෙන් තෝරන්න.



9. රු. 24000ක ණය මුදලක් $7\frac{1}{2}$ %ක පොළියක් සමගින් අවුරුදු $2\frac{1}{2}$ ක දී ආපසු ගෙවනු ලැබේ. ආපසු ගෙවිය යුතු මුළු මුදල කීය ද?

- (a) රු.27,500 (b) රු.28,000 (c) රු.28,250 (d) රු.28,500 (e) රු.29, 500

10. අක්ෂර වින්‍යාසය නිවැරදිව ලියා ඇති පදය තෝරන්න.

අනෝයාත්‍ය අන්වාසුමන

අයිරාවණ අරුන්ගල්

අවධාරන

11. එකක් රු. 370ක් මිල නියම කොට පුටු 500ක් වෙළඳාම සඳහා තබා ඇත. ඉන් අඩක් එම මිලට ද පුටු 100ක් සඳහා 30% ක වට්ටමක් සහිතව පුටු 50 ක් සඳහා 40% ක වට්ටමක් සහිතව ද විකුණන ලදී. ඉතිරිය විකුණාගත නොහැකි විය. මේ පුටු විකිණීමෙන් ලද මුළු මුදල කොපමණ ද?

- (a) රු.108 250 (b) රු.128 500 (c) රු.125 500 (d) රු.129 250 (e) රු.119 150

12. "අලෝභල" යන්නෙහි අර්ථය වන්නේ

- (a) අරගලය (b) විනාශය (c) ප්‍රීතිය (d) කලබලය (e) කණගාටුව

පුද්ගලයන් 150 දෙනෙකුගෙන් රූපවාහිනී වැඩසටහන් ගැන විමසන ලදී. ප්‍රශ්න අංක 13, 14, සහ 15 පදනම් වන්නේ පහත දැක්වෙන තොරතුරු වගුව මත ය.

වයස කාණ්ඩය(අවුරුදු)	25 පුද්ගලයින්	50 පුද්ගලයින්	75 පුද්ගලයින්
	10-20	21-40	41-60
කාටුන්	60%	20%	5%
ප්‍රවාහිනී	4%	25%	42%
විවික්‍රාංග	3%	18%	9%
ටෙලි නාට්‍ය	16%	10%	25%
චිත්‍රපට	12%	8%	15%
ක්‍රීඩා	5%	19%	4%

13. වයස් සීමාවන් සැමකෙන් ම ඉතාමත් ජනප්‍රිය රූපවාහිනී වැඩසටහන කුමක් ද?

- (a) කාටුන් (b) ටෙලි නාට්‍යය (c) චිත්‍රපට (d) ප්‍රවාහිනී (e) ක්‍රීඩා (f) විවික්‍රාංග

14. සියල්ලන්ගෙන් ම දෙවනුවට කැමැත්ත පළ කළ රූපවාහිනී වැඩසටහන කිමෙක් ද?

- (a) චිත්‍රපට (b) ක්‍රීඩා (c) ප්‍රවාහිනී (d) විවික්‍රාංග (e) කාටුන් (f) ටෙලි නාට්‍යය

15. අවුරුදු 21-40 වයස සීමාවේ කොපමණක් කාටුන් වැඩසටහන් බැලීමට කැමැත්ත දැක්වී ද?

- (a) 3 (b) 5 (c) 10 (d) 12 (e) 15 (f) 22

16. පියෙක් එක් සමාන බිම් කොටස් දෙකක් තම දරුවන් 5 දෙනාට බෙදා දුන්නේ ය. පළමු දරුවන් දෙදෙනාට මුළු ඉඩමෙන් භතරෙන් එක බැගින් ලැබී ය. තුන්වැන්නාට ඉඩමෙන් භතරෙන් තුනක් ද, හතරවැන්නාට ඉඩමෙන් 1/4 ක් ද ලැබිණි. තව කොපමණ ඉඩම් ප්‍රමාණයක් 5 වැනියාට ඉතිරිවී ද?

- (a) 1/3 (b) 1/4 (c) 1/2 (d) 3/4 (e) 1/8

17. "සංක්ශේපයෙන්" යන්නෙහි විරුද්ධ පදය වන්නේ

- (a) නිරවුල් ව (b) වර්ධනය වූ (c) විස්තරාත්මක ව (d) නිරවශේෂයෙන් (e) අසන්ෂේප

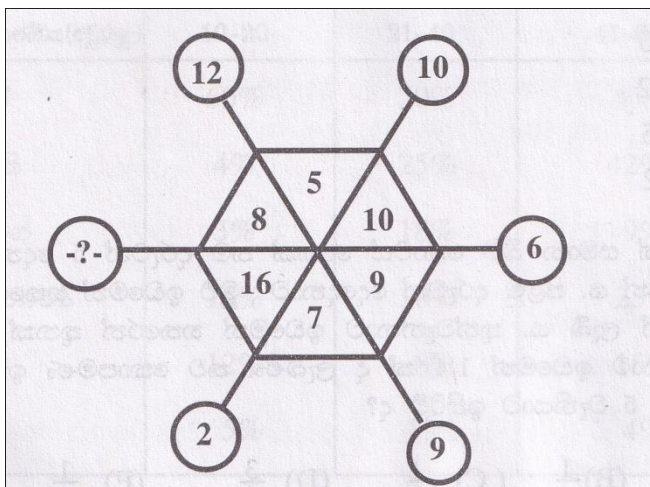
18. ප්‍රවෘත්ති : ප්‍රකාශ නම් වික්‍රම :

- (a) නැරඹීම (b) සටන් (c) දර්ශන (d) රංගන (e) රූපගත

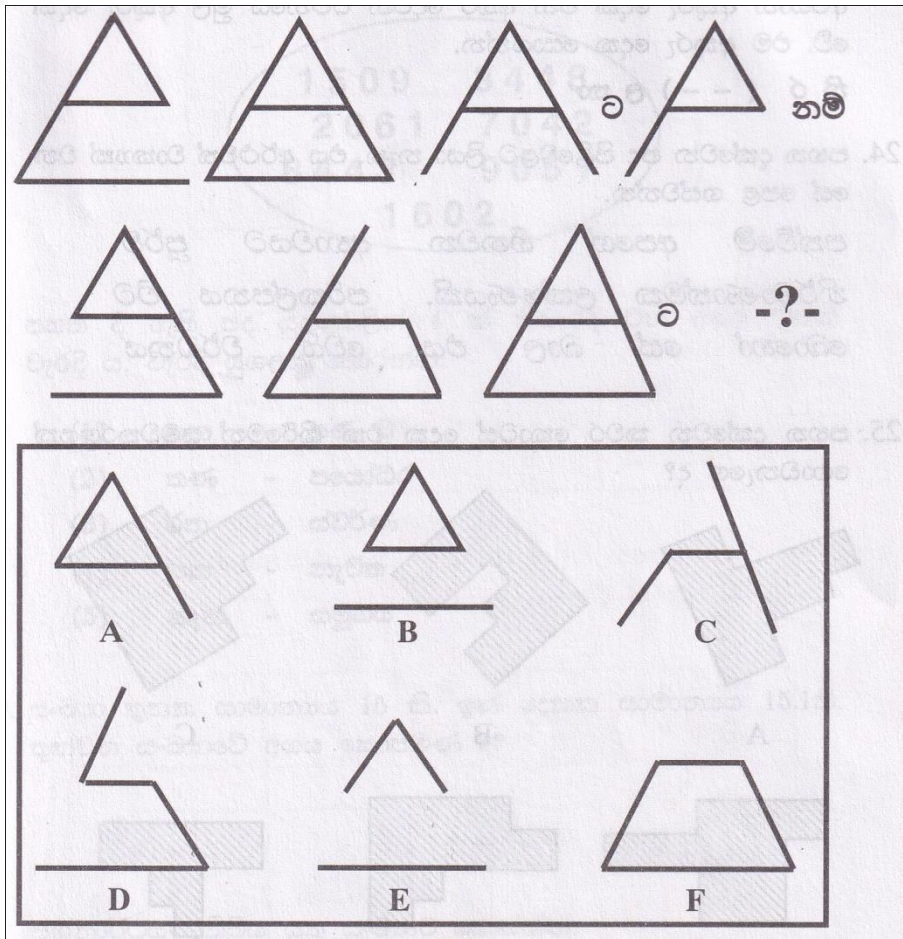
19. 'ඔවරක' යන්නෙහි අර්ථය

- (a) අශ්වයා (b) කාමරය (c) ප්‍රජාව (d) වෘක්ෂය (e) යක්ෂයා

20. ප්‍රශ්නාර්ථ ලකුණු ඇති ස්ථානයට යෙදිය යුතු සංඛ්‍යාව කිමෙක් ද?



21. ප්‍රශ්නාර්ථයට හිමි රූපය කොටුව තුළ ඇති රූපවලින් තෝරන්න.



22. පහත අකුරු මාරුකළ වචනයන්ගෙන් ක අකුරෙන් ආරම්භ නොවන වචනය තෝරන්න.

- 1 පිල්කයන
- 2 ලබකයල
- 3 රුණිහිපුක
- 4 පවනාල්ක
- 5 ලිඹිසකය

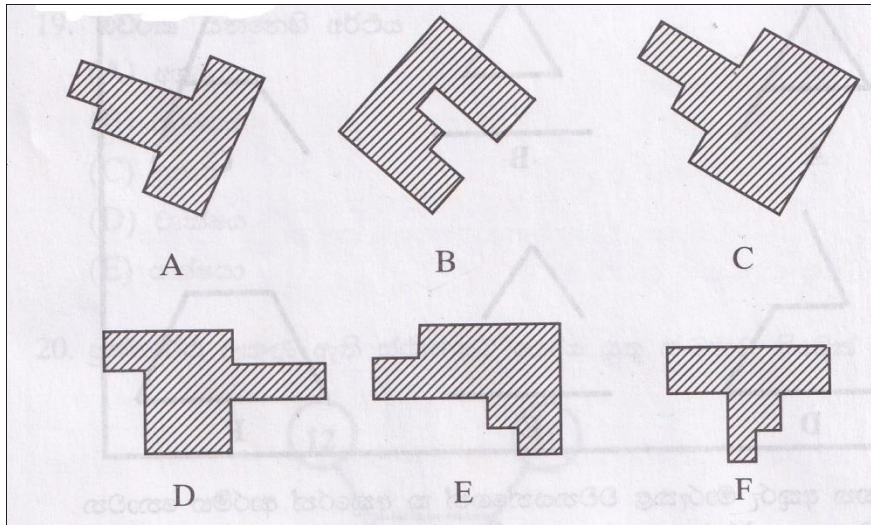
23. පහත හිස්තැනට අකුරු දෙකක් යෙදූ විට ඒවා ප්‍රථම වචනයේ අවසාන අකුරු දෙක වන අතර දෙවන වචනයේ මුල් අකුරු දෙක වේ. එම අකුරු දෙක සොයන්න.

නි ර (_ _) ල නා

24. පහත දැක්වෙන පද පිළිවෙළට ලියා නැත. එය අර්ථවත් වාක්‍යයක් වන සේ පෙළ ගස්වන්න.

පත්වීමේ අපගේ හීනවන අභාවයට පූර්ව
 නිර්මාණාත්මක ලක්ෂණයකි. පරිකල්පනය විට
 බොහෝ දේ බාල එය වෙයි වර්ධනය

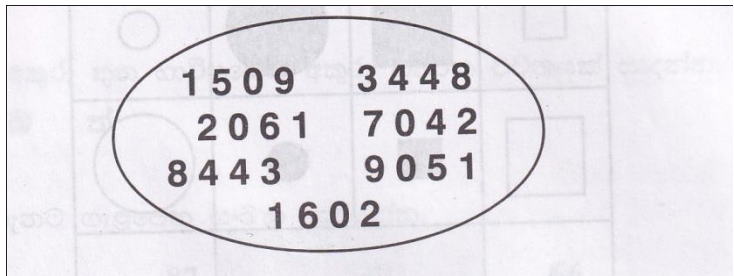
25. පහත දැක්වෙන කවර කොටස් දෙක එක් කිරීමෙන් සමචතුරාස්‍රයක් ගොඩනැගේ ද?



26. පහත අකුරු මගින් ගොඩනැගිය හැකි අර්ථවත් වචනය ලියන්න.

ක්	ස	කා	ම්	ල	ප	ති
----	---	----	----	---	---	----

27. නො ගැළපෙන සංඛ්‍යාව සොයන්න.



28. පහත දී ඇති පද යුගලවලින් 4 ක් නිවැරදි වන අතර එකක් වැරදි ය. වැරදි යුගලය තෝරන්න.

- (1) ගන - සණ වූ
- (5) තණ - පයෝධර
- (3) රන - ස්වර්ණ
- (4) පන - නැවත
- (5) කැන - සමූහය

29. සංඛ්‍යා තුනක සාමාන්‍යය 16 කි. ඉන් දෙකක සාමාන්‍යය 15.1කි. තුන්වන සංඛ්‍යාවේ අගය කොපමණ ද?

30. ප්‍රශ්නාර්ථයට තිබිය යුතු සංඛ්‍යාව සොයන්න.

39	43	42	37	65	44
34	38	54	49	45	-?-

