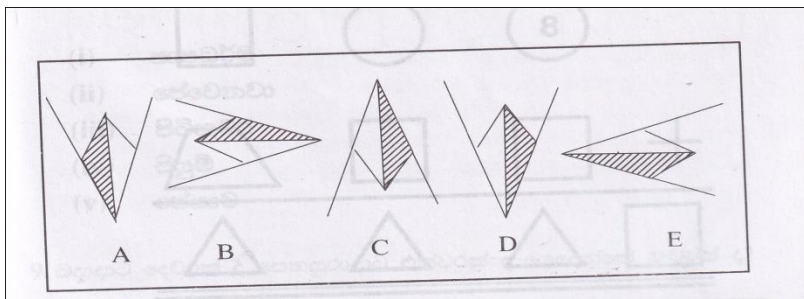
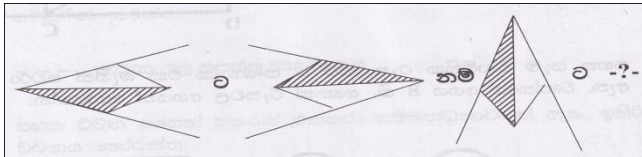


ප්‍රශ්න සියල්ලට ම පිළිතුරු සපයන්න

1. ප්‍රශ්නාර්ථ ලකුණු ඇති ස්ථානයට යෙදිය යුතු සංඛ්‍යාව කිමෙක් ද?

8	11	15	12
9	10	15	4
73	112	228	-?-

2.



3. පහත ඒවායින් 4 ක් යම් සම්බන්ධතාවයක් ඇත. ඉතිරිය සොයන්න

අනවශේෂ = ඡව

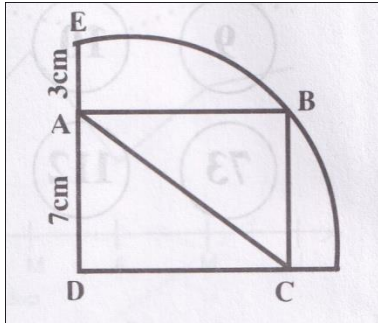
ඒකාන්තරික = කන්

කන්දොස්කිරියා = යාස්

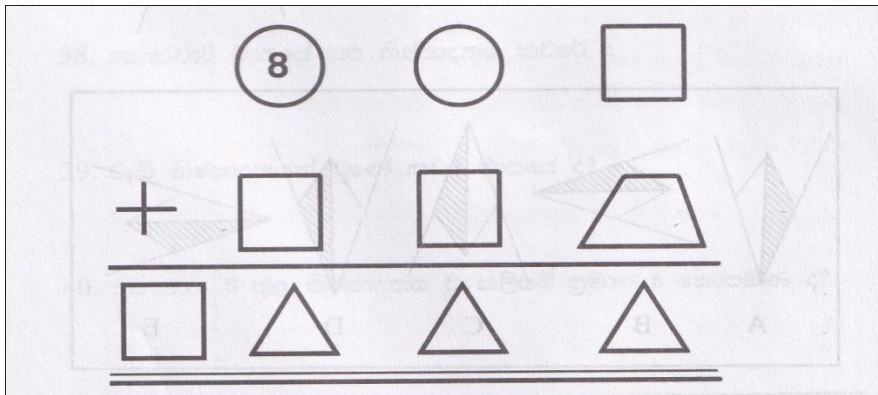
ගිණිකුකුලා = ලාකු

නරියා = යාරි

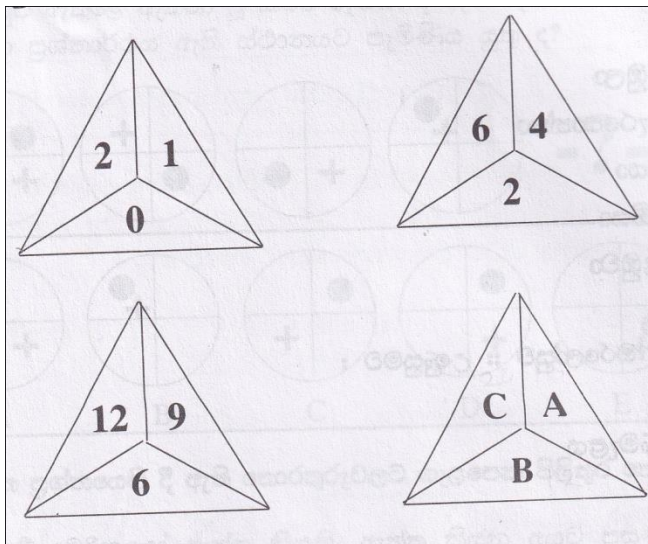
4. රූපයේ දැක්වෙන්නේ පාදයක අඳින ලද ABCD සාප්පකෝණාශ්‍රයකි. එහි දක්වා ඇති AC දිග කොපමණ ද?



5. පහත සෑම ඡායාමිතික රූපයකට ම සංඛ්‍යාංක එක බැගින් පවරා ඇත. වෘත්තයේ අගය 8 කි. අනෙක් රූපවල අගයන් සොයන්න.



6. A, B සහ C හි අගයන් සොයන්න.



7. පසුව තේරුම දී ඇති වචනයේ අග කොටස මෙහි දැක්වේ. අඩුව සම්පූර්ණ කරන්න
___කාරයා යනු සපත්තු සාදන්නා ය.

8. පහත වචන පහෙන් හතරක් එක්තරා සම්බන්ධතාවයක් ඇත. ඉතිරි වචනය තෝරන්න

(1) පාපධර්ම

(2) ජේවනවා

(3) පිටිනුවර

(4) පියුම්

(5) ජේයාව

9. බදාදාට දෙවරක් ද සෙනසුරාදාට එක්වරක් ද යෙදෙන්නේ කවරක් ද?

10. "කිපිලිපිකා" යනු

(1) කිඹුලා

(2) කරපොත්තා

(3) නයා

(4) කුඹියා

(5) දළඹුවා

11. වේලාව: ඔරලෝසුව:: උණසුමට :

(1) ගිණිමැලය

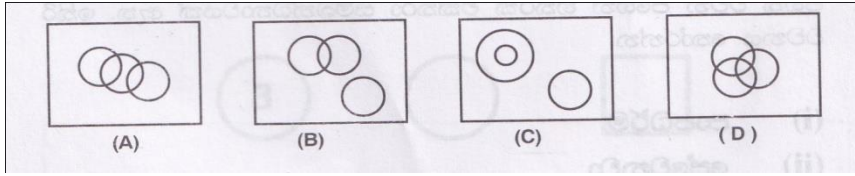
(2) ඉර

(3) ලිප

(4) උෂ්ණමාපකය

(5) උණ

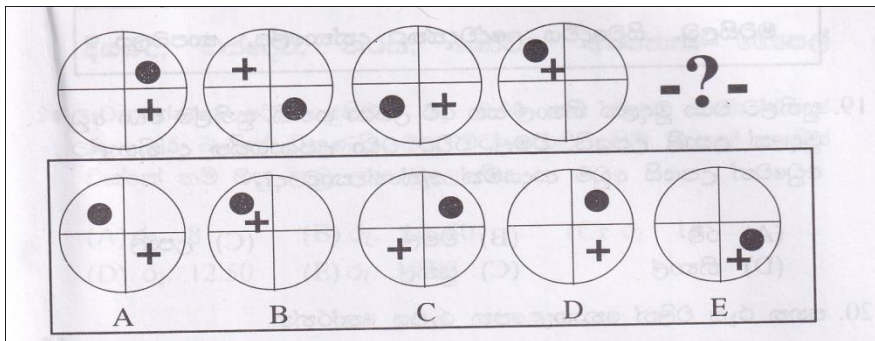
12. පහත කවර වෙන් සටහනින් කුරුල්ලන්, බල්ලා සහ ගිරවා යන්න ප්‍රකාශවෙයි ද?



13. පහත දී ඇති වචන පහෙන් වචන යුගලයක අර්ථය සමාන ය. තවත් වචන යුගලයක් එකිනෙකට විරුද්ධ වේ. ඉතිරි වචනය තෝරන්න.

සර නිහින දහවල උත්තම ගැහැනිය

14. කොටුව ඇතුළේ ඇත්ත වූ කවර රූපය, දී ඇති රූප රටාව සුරැකීම සඳහා ප්‍රශ්නාර්ථය ඇති ස්ථානයට පැමිණිය යුතු ද?



15. පහත ප්‍රශ්නයෙහි දී ඇති තොරතුරුවලට ගැළපෙන පිළිතුර තෝරන්න.

ඇතැම් දාමරිකයෝ ඇත්ත කියති. ඇත්ත කියන අයට ප්‍රසංශා කළ යුතු ය.

සියලු ම දාමරිකයන් ප්‍රසංසාවට ලක්කළ යුතු නොවේ.

දාමරිකයන් සැමවිට ම ඇත්ත කියති.

ඇතැම් දාමරිකයන් ඇතැම් විට ප්‍රසංසාවට ලක්කිරීම සුදුසු වේ.

ඇත්ත කීවාට කිසි විට ම දාමරිකයන් ප්‍රශංසාවට ලක් කළ යුතු නො වේ.

දාමරිකයාට වඩා බොරුව නරක ය.

16. එක්තරා ස්ථානයකට සඳහා පැමිණීමෙන් මා දින 3 කට කලින් පැමිණි බව වැටහුනි. මා ඊළඟ සෙනසුරාදා එතැනට සේන්ද්‍රවූයේ නම් මා කොපමණ දින ගණනක් ප්‍රමාද වේ ද?

17. පහත අකුරු සහ වචන කළවම් කර ලියන ලද වැකිය නිවැරදි කොට ලියන්න.

මකිරි වනෙනොන්ය. කුටනකෙ

යාක්වක්‍රි වාරාකසමදාන් භාපසඅ

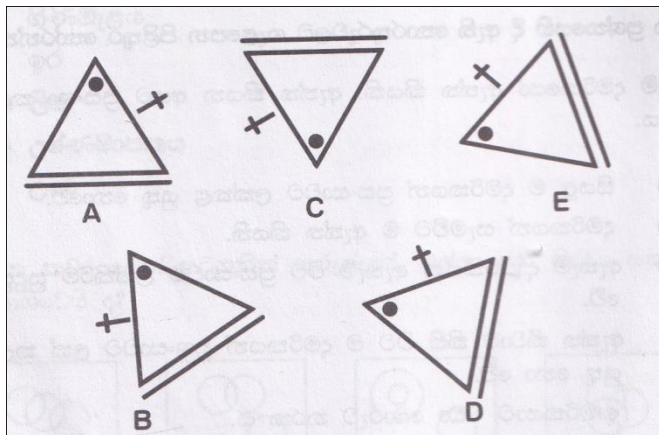
18. පහත රටාවේ එන වචනයේ පිළිතුර කොටුව තුළ වේ. එය තෝරා ලියන්න.

මටසිලුටු, සිටුදේවිය, දේවදත්ත, දත්තාලේප, තාපබලය

19. සුනිල්ට වඩා මුදලක් නිහාල් සහ රවී උපයා ගනිති. සුනිල්ට වඩා අඩු මුදලක් උපාලි උපයයි. විමල්, රවීට වඩා උපයාගන්න ද නිහාල්ට අඩුවෙන් උපයයි. අඩුම ආදායමක් ඇත්තේ කාට ද?

(A) රවී (B) විමල් (C) උපාලි (D) නිහාල් (E) සුනිල්

20. පහත රූප වලින් නොගැළපෙන රූපය තෝරන්න



21. පහත ඉංග්‍රීසි අකුරු එක්තරා රටාවකට පිහිටා ඇත. ඊළඟට පැමිණිය යුතු අකුරු යුගලය ලියන්න.

XZ VT RP WL JH -?-

22. ඊළඟට පැමිණිය යුතු වචනය දී ඇති වචන අතුරින් තෝරන්න.

සුකුමාල, ලළනාව, වතුපිටි, ටින්කරි, රියදුරා,

අරුණලු, ආබාධිත, රාළහාමි, පුන්සඳු, රණවිරු

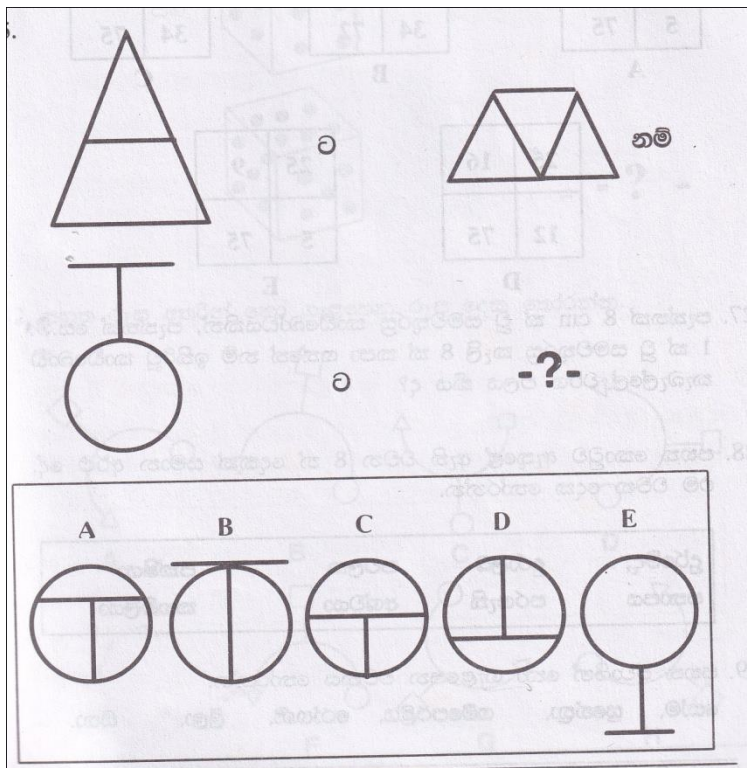
23. පහත වචන අතුරින් එක් වචනයක් අනෙක් ඒවා හා නොගැළපෙයි. එම වචනය තෝරන්න.

දියබද, වස්දෙව්, නරසී, ගොවිදු, අටනෙත්, ගොපල්

24. වෙළෙන්දෙක් ටොපි දුසිමක් රු.9.00 කට මිලට ගෙන එකක් රු.1.25 බැගින් විකුණයි. ඔහු මට ටොපි දුසිම දෙකක් ගෙවීත් වික්කේ නම් ඔහු ලැබූ ලාභ මුදල කීය ද?

- (A) රු.8 (B) රු.10. 50 (C) රු.12 (D) රු.12.50 (E) රු.15

25.



26.

1	2	4	9	9	16	16	23
6	3	13	12	20	27	27	48

ඉහත රටාවේ ඊළඟට පැමිණිය යුතු කොටුව පහත දී ඇති රූප අතුරින් තෝරන්න.

25	10	24	30	25	30
5	75	34	72	34	75
A		B		C	

25	16	25	9
12	75	5	75
D		E	

27. පැත්තක් 8cm ක් වූ සමචතුරස්‍ර කාඩ්බෝඩයකින්, පැත්තක් සෙ.මී.1ක් වූ සමචතුරස්‍ර කැලී 8 ක් කපා ගත්තේ නම් ඉතිරිවූ කාඩ්බෝඩ කැබැල්ලේ වර්ග ඵලය කීය ද?

28. පහත කොටුව ඇතුළේ ඇති වචන 8 න් දෙකක් සමාන අර්ථ දේ. එම වචන දෙක තෝරන්න.

දුර්මේද	දුරාලබ	පවලක	පක්ෂියා
පතාපය	පරගැති	අශ්වයා	කහඹිලියා

29. පහත ඒවායින් නො ගැළපෙන වචනය තෝරන්න.

සෝම, සුනේත්‍රා, ගම්පෙරළිය, රෝහණි, ලීලා, සිතා.

30. “මෘදු කෙස් ඇති“ යන අර්ථය දෙන වචනය සඳහා හිස් තැනට සුදුසු අකුරු දෙක ලියන්න.

කෝ.....කෙ ස තා

